

QUESTÃO
11

A área do quadrilátero definido pelos eixos coordenados e as retas $r: x - 3y + 3 = 0$ e $s: 3x + y - 21 = 0$, em unidades de área, é igual a

- a) $\frac{19}{2}$
- b) 10.
- c) $\frac{25}{2}$.
- d) $\frac{27}{2}$.
- e) $\frac{29}{2}$.

Resolução

$$r: x - 3y + 3 > 0$$

$$s: 3x + y - 21 > 0$$

$$(r \wedge s)$$

$$\begin{cases} x - 3y > -3 \\ 3x + y > 21 \end{cases} \Rightarrow \begin{cases} x - 3y > -3 \\ x > 6 \\ y > 3 \end{cases} \Rightarrow E(6,3)$$

$$(r)$$

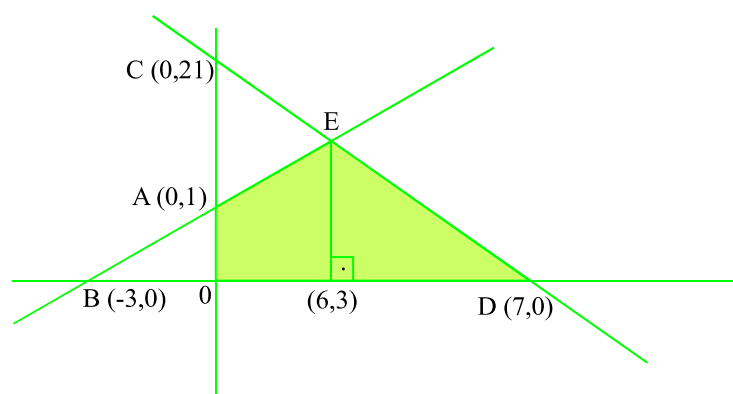
$$x > 0 \wedge y > 1 \Rightarrow A(0,1)$$

$$y > 0 \wedge x > -3 \Rightarrow B(-3,0)$$

$$(s)$$

$$x > 0 \wedge y > 21 \Rightarrow C(0,21)$$

$$y > 0 \wedge x > 7 \Rightarrow D(7,0)$$



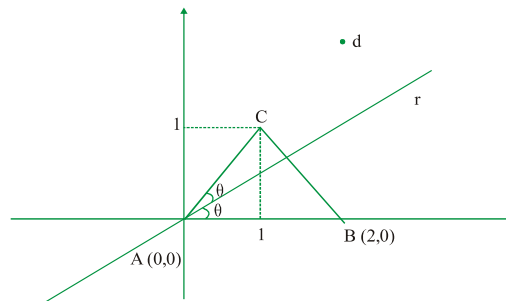
$$S > \frac{3 \cdot 1}{2}, \frac{(1, 3) \cdot 6}{2} > \frac{27}{2}$$

Letra: D

Dados os pontos $A = (0,0)$, $B = (2,0)$ e $C = (1,1)$, o lugar geométrico dos pontos que se encontram a uma distância $d = 2$ da bissetriz interna, por A , do triângulo ABC é um par de retas definidas por

- a) $r_{1,2} : \sqrt{2}y \cdot x^R \ 2\sqrt{4}, \sqrt{2} > 0$.
- b) $r_{1,2} : \frac{\sqrt{2}}{2}y \cdot x^R \ 2\sqrt{10}, \sqrt{2} > 0$.
- c) $r_{1,2} : 2y \cdot x^R \ 2\sqrt{10}, \sqrt{2} > 0$.
- d) $r_{1,2} : (\sqrt{2}, 1)y \cdot x^R \ \sqrt{2}, 4\sqrt{2} > 0$.
- e) $r_{1,2} : (\sqrt{2}, 1)y \cdot x^R \ 2\sqrt{4}, 2\sqrt{2} > 0$.

Resolução



$$\widehat{CAB} > \frac{\pi}{4}, \text{ logo } r > \frac{\pi}{8} \hat{=} \operatorname{tg} r > \sqrt{2} \cdot 1$$

Equação da reta r :

$$y \cdot 0 > (\sqrt{2} \cdot 1)(x \cdot 0) \hat{=} y > (\sqrt{2} \cdot 1)x$$

L.G

$$d_{p,r} > \frac{|y \cdot (\sqrt{2} \cdot 1)x|}{\sqrt{1^2 + (\sqrt{2} \cdot 1)^2}} > \frac{|y \cdot (\sqrt{2} \cdot 1)x|}{\sqrt{4 \cdot 2\sqrt{2}}} > 2$$

$$|y \cdot (\sqrt{2} \cdot 1)x| > 2\sqrt{4 \cdot 2\sqrt{2}}$$

$$y \cdot (\sqrt{2} \cdot 1)x^R \ 2\sqrt{4 \cdot 2\sqrt{2}} > 0$$

Multiplicando por $\sqrt{2}, 1$

$$(\sqrt{2}, 1)y \cdot x^R \ 2\sqrt{4}, 2\sqrt{2} > 0$$

Letra: E

QUESTÃO

13

Sejam A , B e C subconjuntos de um conjunto universo U . Das afirmações

I. $(A \setminus B^c) \setminus C^c \supseteq A \cap (B \cap C)$;

II. $(A \setminus B^c) \setminus C \supseteq A \cap (B \cap C^c)^c$;

III. $B^c \cap C^c \supseteq (B \cap C)^c$,

é (são) sempre verdadeira(s) apenas

- a) I.
- b) II.
- c) III.
- d) I e III.
- e) II e III.

Resolução

I.

$$\begin{aligned} x \in A \setminus B^c &\Leftrightarrow x \in A \text{ e } x \notin B^c \\ &\Leftrightarrow x \in A \text{ e } x \in B \\ &\Leftrightarrow x \in A \cap B \\ \text{logo } x \in A \setminus B^c \setminus C^c &\Leftrightarrow x \in A \cap B \text{ e } x \notin C^c \\ &\Leftrightarrow x \in A \cap B \text{ e } x \in C \\ &\Leftrightarrow x \in A \cap B \cap C \end{aligned}$$

$$A \cap (B \cap C) \supseteq A \cap B \cap C$$

$A \cap B \cap C \supseteq A \cap B \cap C$ que faz da afirmação I falsa.

II.

$x \in A \setminus B^c$ de I implica que $x \in A \cap B$

$$x \in A \setminus B^c \setminus C \Leftrightarrow x \in A \cap B \text{ e } x \notin C$$

$$\Leftrightarrow x \in A \cap B \text{ e } x \in C^c \Leftrightarrow x \in A \cap B \cap C^c$$

$$A \cap (B \cap C^c)^c \supseteq A \cap (B^c \cap C) \supseteq A \cap B^c \cap C$$

Logo a afirmação II é falsa.

III.

Pela Lei de Morgan, temos

$$(B \cap C)^c \supseteq B^c \cap C^c \text{ o que faz da afirmação III, verdadeira.}$$

Letra: C

Sejam A e B dois conjuntos disjuntos, ambos finitos e não-vazios, tais que $n(P(A) \cup P(B)) = 1 + n(P(A) \cap P(B))$. Então, a diferença $n(A) - n(B)$ pode assumir

- um único valor.
- apenas dois valores distintos.
- apenas três valores distintos.
- apenas quatro valores distintos.
- mais do que quatro valores distintos.

Resolução

Sejam $n(A) = x$ e $n(B) = y$

$$P(A) = 2^x$$

$$P(B) = 2^y$$

$$P(A) \cap P(B) = 2^{\frac{x+y}{2}}$$

$$n(P(A) \cup P(B)) = 2^{x+y}$$

$$n(P(A) \cup P(B)) = n(P(A)) + n(P(B)) - n(P(A) \cap P(B))$$

$$2^{x+y} = 2^x + 2^y - 2^{\frac{x+y}{2}}$$

$$2^x + 2^y - 2^{\frac{x+y}{2}} > 2^{x+y}$$

$$2^x + 2^y - 2^{\frac{x+y}{2}} < 2^{x+y}$$

$$\frac{2^x}{2^y} + 1 > 2^x$$

$$2^{x-y} > 2^x + 1$$

Se $x > 1$ $2^{x-y} > 1$ $x \cdot y > 0$ $x > y$

Se $x \leq 1$ $(2^x + 1)$ não é ímpar, logo não há solução

Logo $\nexists (x \cdot y)$

Letra: A

Considere um número real $a \neq 1$ positivo, fixado, e a equação em x $a^{2x} - 2cb^x = c > 0, c \neq 4$

Das afirmações:

- I. Se $c = 0$, então existem duas soluções reais distintas;
- II. Se $c > .1$, então existe apenas uma solução real;
- III. Se $c > 0$, então não existem soluções reais;
- IV. Se $c \neq 0$, então existem duas soluções reais distintas, é (são) sempre verdadeira(s) apenas

- a) I.
- b) I e III.
- c) II e III.
- d) II e IV.
- e) I, III e IV.

Resolução

$$a^{2x} - 2cb^x = c > 0$$

Fazendo $y = a^x$, temos que:

$$y^2 - 2cy = c > 0$$

$$y_{1,2} = \frac{2c \pm \sqrt{4c^2 + 4c}}{2}, 4c^2 + 4c > 0$$

Logo $y_{1,2} = c \pm \sqrt{c^2 + c}, c \neq .1$ ou $c = 0$.

(I) **Falso.**

(II) Se $c > .1$, temos

$$y_{1,2} = c \pm \sqrt{c^2 + c}$$

$$a^x > 1 \iff x > 0$$

Verdadeiro.

(III) Se $c > 0$, temos

$$y_{1,2} > 0$$

$$a^x > 0, \text{ logo } \forall x \in \mathbb{R}$$

Verdadeiro.

(IV) Se $c \neq 0$, temos

$$a^x = c \pm \sqrt{c^2 + c}$$

Como $\sqrt{c^2 + c} > c$, a equação possui apenas uma solução.

Falso.

Letra: C

Seja $S = \left\{ x \in \mathbb{R} \mid \arcsen \frac{e^{-x} \cdot e^x}{2} > \arccos \frac{e^x \cdot e^{-x}}{2} \right\}$. Então,

- a) $S > \frac{1}{2}$.
- b) $S > \{0\}$.
- c) $S > \mathbb{R} \setminus \{0\}$.
- d) $S > \mathbb{R}$.
- e) $S > \mathbb{R}$.

Resolução

$$\arcsen \left(\frac{e^{-x} - e^x}{2} \right) = \alpha \rightarrow \text{sen} \alpha = \frac{e^{-x} - e^x}{2} = -\frac{e^x - e^{-x}}{2}$$

$$\arccos \left(\frac{e^x - e^{-x}}{2} \right) = \beta$$

$$\cos \beta = \frac{e^x - e^{-x}}{2}$$

$$\text{sen} \alpha = -\cos \beta \quad (I)$$

$$\alpha = \frac{\pi}{2} - \beta$$

$$\text{sen} \alpha = \text{sen} \left(\frac{\pi}{2} - \beta \right)$$

$$\text{sen} \alpha = \cos \beta$$

De I:

$$\cos \beta = -\cos \beta$$


$$\cos \beta = 0$$

$$\beta = \frac{\pi}{2}$$

$$\alpha = 0$$

$$\text{Se } \beta = \frac{\pi}{2} \therefore \frac{e^x - e^{-x}}{2} = 0$$

$$e^x = e^{-x} \therefore x = 0$$



Letra: B

QUESTÃO
17

Seja $x \in [0, 2\pi]$ tal que $\sin(x)\cos(x) > \frac{2}{5}$. Então, o produto e a soma de todos os possíveis valores de $\operatorname{tg}(x)$ são, respectivamente

- a) 1 e 0.
- b) 1 e $\frac{5}{2}$.
- c) -1 e 0.
- d) 1 e 5.
- e) -1 e $-\frac{5}{2}$.

Resolução

Como $\sin x \cos x > 0$, então $\sin x$ e $\cos x > 0$

Assim

$$\sin x \cos x > \frac{2}{5} \Rightarrow 2 \sin x \cos x > \frac{4}{5} \Rightarrow \sin 2x > \frac{4}{5}$$

Pela relação fundamental da trigonometria, tem-se que:

$$\cos^2 2x > 1 - \sin^2 2x \Rightarrow |\cos 2x| > \frac{3}{5}$$

Portanto, $\operatorname{tg} 2x > \frac{\sin 2x}{\cos 2x} > \frac{4}{5}$

Como

$$\operatorname{tg} 2x > \frac{2 \operatorname{tg} x}{1 - \operatorname{tg}^2 x}, \text{ então} \quad \text{ou} \quad \text{(II)} \quad \frac{2 \operatorname{tg} x}{1 - \operatorname{tg}^2 x} > \frac{4}{5}$$

$$\text{(I)} \quad \frac{2 \operatorname{tg} x}{1 - \operatorname{tg}^2 x} > \frac{4}{5}$$

$$2 \operatorname{tg} 2x \cdot 3 \operatorname{tg} x \cdot 2 > 0$$

$$\operatorname{tg} x > \frac{1}{2} \quad (\text{não convém})$$

$$2 \operatorname{tg} 2x \cdot 3 \operatorname{tg} x \cdot 2 > 0$$

$$\operatorname{tg} x > \frac{1}{2}$$

ou

ou

$$\operatorname{tg} x > 2$$

$$\operatorname{tg} x > -2 \quad (\text{não convém})$$

Logo, o produto das raízes $P > \frac{1}{2} \cdot 2 > 1$ e a soma das raízes $S > \frac{1}{2} + 2 > \frac{5}{2}$

Letra: B

A soma $\prod_{k=0}^n \cos(b, kq)$, para todo $b \in [0, 2q]$, vale

- a) $\cos(b)$ quando n é par.
- b) $\sin(b)$ quando n é ímpar.
- c) $\cos(b)$ quando n é ímpar.
- d) $\sin(b)$ quando n é par.
- e) zero quando n é ímpar.

Resolução

$$\prod_{k=0}^n \cos(b, kq) = \cos(b, 0) \cdot \cos(b, q) \cdot \cos(b, 2q) \cdot \dots \cdot \cos(b, nq)$$

Se n é par: $\cos b \cdot \cos b \cdot \cos b \cdot \dots \cdot \cos b$

Se n é ímpar: $\cos b \cdot \cos b \cdot \cos b \cdot \dots \cdot \cos b \cdot \cos b > 0$

Letra: E

QUESTÃO

19

Um cone circular reto de altura de 1 cm e geratriz $\frac{2\sqrt{3}}{3}$ cm é interceptado por um plano paralelo à sua base, sendo determinado, assim, um novo cone. Para que este novo cone tenha o mesmo volume de um cubo de aresta $\frac{a}{243}$ cm, é necessário que a distância do plano à base do cone original seja, em cm, igual a

- a) $\frac{1}{4}$.
- b) $\frac{1}{3}$.
- c) $\frac{1}{2}$.
- d) $\frac{2}{3}$.
- e) $\frac{3}{4}$.

Resolução

$$R^2 + 1^2 = \left(\frac{2\sqrt{3}}{3}\right)^2$$

$$R^2 + 1 = \frac{4}{3}$$

$$R^2 = \frac{1}{3} \Rightarrow R = \frac{\sqrt{3}}{3}$$

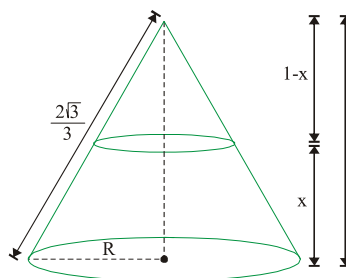
$$V_{\text{cone}} = \frac{1}{3} \pi R^2 \cdot 1 = \frac{\pi}{9}$$

$$V_{\text{cone novo}} = V_{\text{cubo}} = \left(\frac{a}{243}\right)^3 = \frac{a^3}{243}$$

$$\frac{1}{3} \pi x^3 = \frac{a^3}{243} \Rightarrow \frac{x^3}{1} = \frac{a^3}{243} \Rightarrow \frac{x}{1} = \frac{a}{27} \Rightarrow x = \frac{a}{27}$$

$$1 - x = \frac{2}{3} \Rightarrow x = \frac{1}{3}$$

Letra: D



A superfície lateral de um cone circular reto é um setor circular de 120° e área igual a $3q$ cm². A área total e o volume deste cone medem, em cm² e cm³, respectivamente

- a) $4q$ e $\frac{2q\sqrt{2}}{3}$.
- b) $4q$ e $\frac{q\sqrt{2}}{3}$.
- c) $4q$ e $q\sqrt{2}$.
- d) $3q$ e $\frac{2q\sqrt{2}}{3}$.
- e) q e $2q\sqrt{2}$.

Resolução

$$qRg > 3q$$

$$Rg > 3$$

$$2qR > \frac{1}{3} 2qg$$

$$g > 3R$$

$$\hat{=} R \hat{=} R > 3$$

$$R > 1 \hat{=} g > 3$$

$$A_r > q r(r, g)$$

$$> q(4) > 4q$$

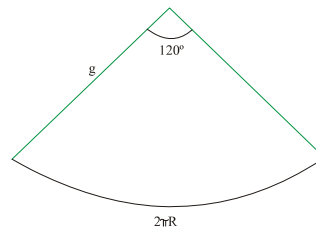
$$g^2 > h^2, r^2$$

$$g > h^2, 1$$

$$h > 2\sqrt{2}$$

$$V > \frac{1}{3} q R^2 h$$

$$\frac{1}{3} q 1^2 \cdot 2\sqrt{2} > \frac{2q\sqrt{2}}{3}$$



Letra A